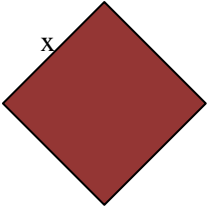
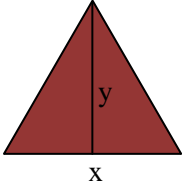
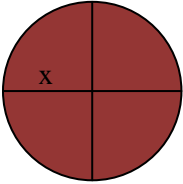
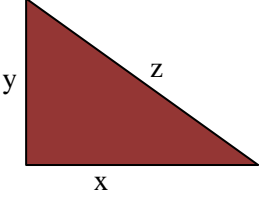


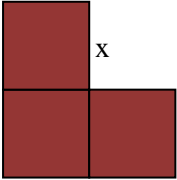
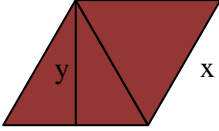


Utilizando lenguaje algebraico expresa las siguientes situaciones

	<p>Área de la figura:</p> <p>Perímetro de la figura:</p>		<p>Área de la figura:</p> <p>Perímetro de la figura:</p>
	<p>Área de la figura:</p> <p>Perímetro de la figura:</p>		<p>Área de la figura:</p> <p>Perímetro de la figura:</p>
	<p>Área de la figura:</p> <p>Perímetro de la figura:</p>		<p>Área de la figura:</p> <p>Perímetro de la figura:</p>
	<p>Área de la figura:</p> <p>Perímetro de la figura:</p>		<p>Área de la figura:</p> <p>Perímetro de la figura:</p>